

2009年度 第1問 問1

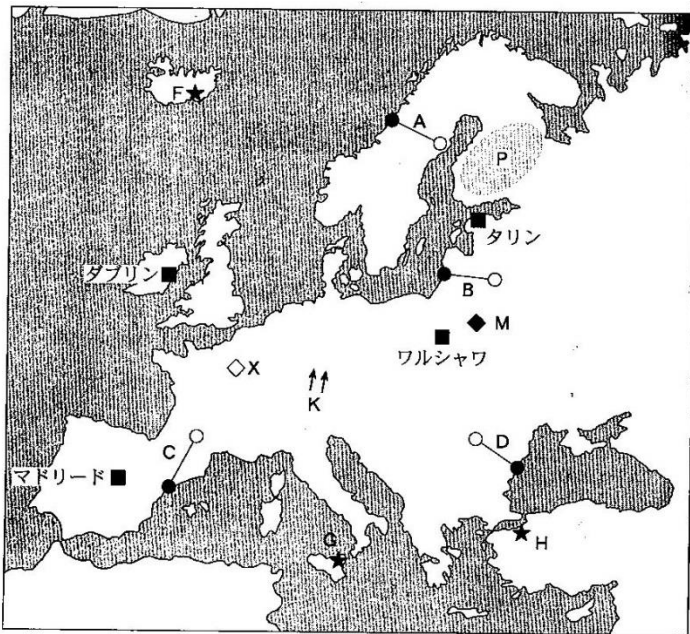
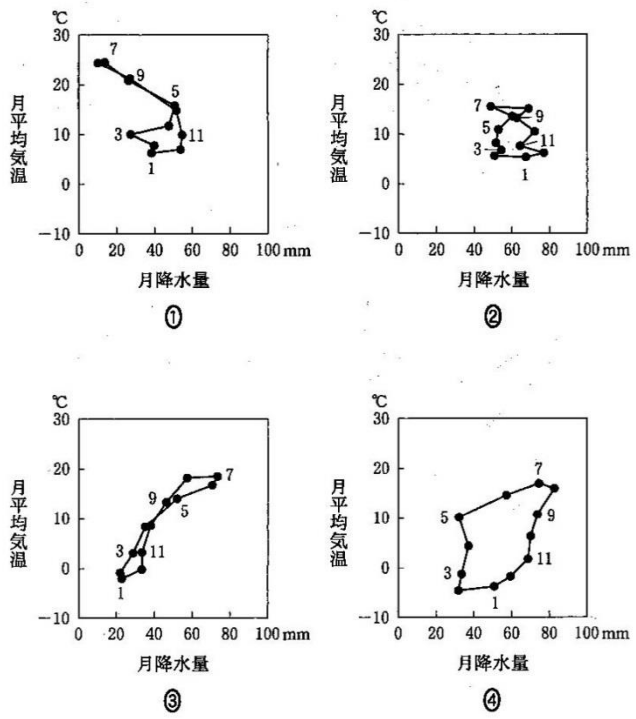


図 1

問 1 次の図2中の①～④は、図1中のダブリン、タリン、マドリード、ワルシャワのいずれかの地点における月平均気温と月降水量を示したものである。マドリードに該当するものを、図2中の①～④のうちから一つ選べ。 1



『理科年表』により作成。

図 2

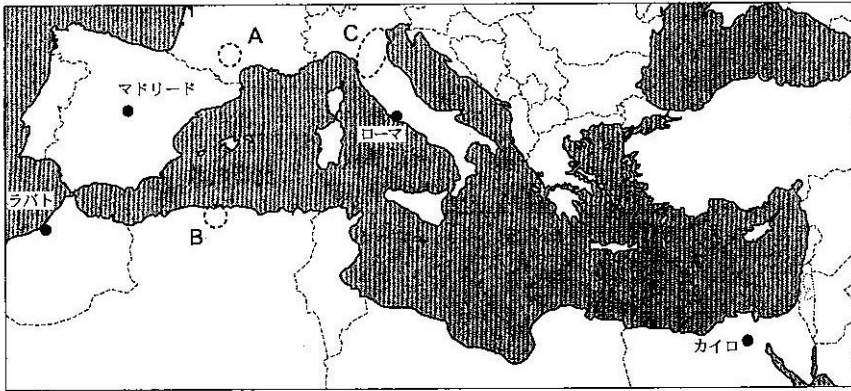
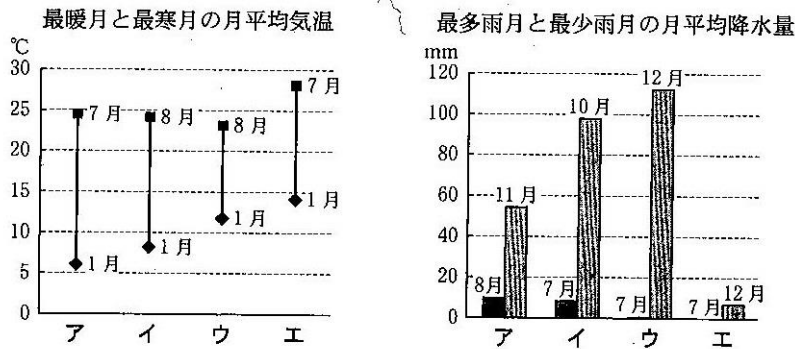


図 1

問 2 次ページの図2は、いくつかの都市における最暖月と最寒月の月平均気温、および最多雨月と最少雨月\*の月平均降水量を示している。図2中のア～エは、図1中に示したカイロ、マドリード、ラバト、ローマのいずれかである。ラバトに該当するものを、次ページの①～④のうちから一つ選べ。 20

\*複数月ある場合には、いずれかの月を示している。



『理科年表』により作成。

図 2

- ① ア                      ② イ                      ③ ウ                      ④ エ